

MAT - PONAVLJANJE IN URJENJE ZNANJA od 4. 5. – 6. 5. 2020

- Učenec: • pozna geometrijske oblike in jih opiše,
  - uporablja geometrijsko orodje in merilne instrumente,
  - prepozna in nariše simetrične oblike,
  - poišče manjkajoči člen pri računih seštevanja, odštevanja, množenja in deljenja,
  - pozna zmnožke do avtomatizma v obsegu  $10 \times 10$  in količnike, ki so vezani na poštevanko,
  - pozna in uporablja računske operacije: seštevanje, odštevanje, množenje in deljenje ter njihove lastnosti,
  - reši besedilne naloge iz vsakdanjega življenja,
  - razporedi elemente po več lastnostih in razporeditev prikaže s preglednico ter prikazom,
  - predstavi zbrane podatke,
  - prepozna, nadaljuje in oblikuje vzorec,
  - pozna matematično terminologijo.

V zvezek zapiši račune in odgovore ter rešitev.

5. Reži.

S Koliko prstov na rokah ima 5 ljudi?  
Odgovor: \_\_\_\_\_

U Koliko nog ima 8 konjev?  
Odgovor: \_\_\_\_\_

Č Martin je imel 54 frnikol. Maja jih je imela šestkrat manj.  
Koliko frnikol je imela Maja?  
Odgovor: \_\_\_\_\_

M Jerneja je 5 prijateljem razdelila 40 bonbonov, vsakemu enako.  
Koliko bonbonov je dobil vsak?  
Odgovor: \_\_\_\_\_

R Kolikšen je količnik, če je deljenec 36, delitelj pa 6?  
Odgovor: \_\_\_\_\_

A Deljenec je 63, delitelj 9.  
Kolikšen je količnik?  
Odgovor: \_\_\_\_\_


Črke vpiši pod rezultate v okencih.

50	8	32	9	7	6
Jernej je					







Natančno preberi navodila, prikaz z vrsticami preriši v zvezek za matematiko (pomagaj si s kvadratki v zvezku) in ga pravilno dopolni.

Spodnje povedi prepisi in dopolni.

3. V preglednico vpiši, koliko posameznih geometrijskih teles in likov je postavil Jure. Podatke prikaži v prikazu z vrsticami in dopolni povedi.



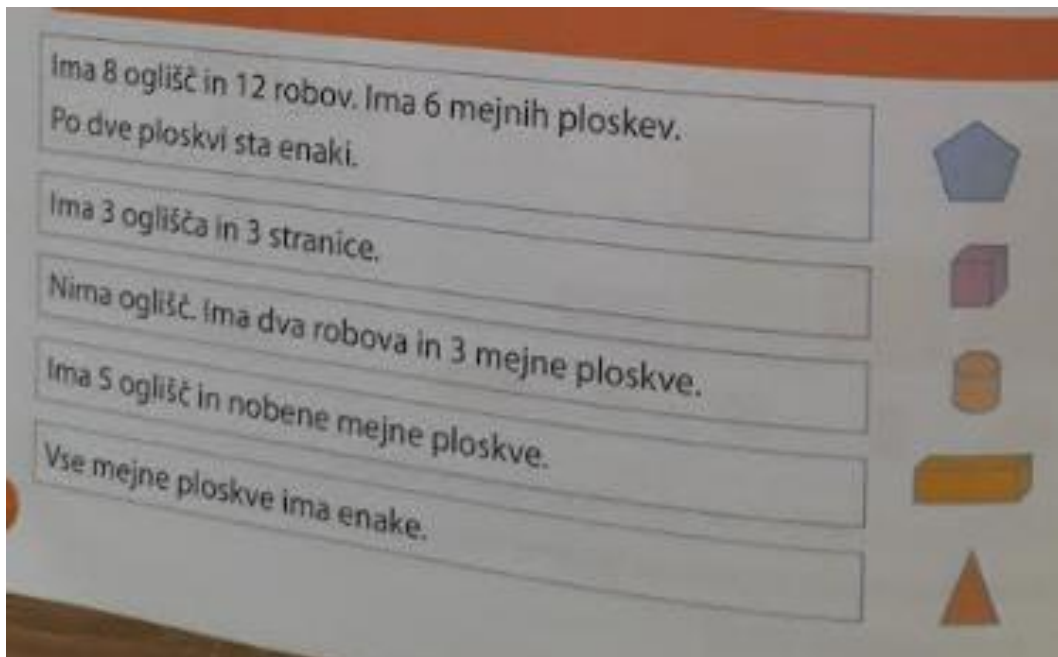
LEGENDA  JE 2 GEOMETRIJSKI TELESALI 2 LIKA

TELO/LIK	ŠTEVILO												
TRIKOTNIK													
VALJ													
KOCKA													
KROG													
KVADER													

Največ je \_\_\_\_\_ . Najmanj je \_\_\_\_\_ . Enako mnogo je \_\_\_\_\_ in \_\_\_\_\_ . Geometrijskih teles je za \_\_\_\_\_ več kot likov.

Prepiši in preriši še spodnjo preglednico.

Poveži.



Priporočene spletne strani:

<https://www.lilibi.si/mestni-trg/matematika/geometrija/igre>

[https://vadnica.moja-matematika.si/naloge/geometrija\\_in\\_merjenje/geometrijske\\_oblike/telesa/](https://vadnica.moja-matematika.si/naloge/geometrija_in_merjenje/geometrijske_oblike/telesa/)

[https://vadnica.moja-matematika.si/naloge/geometrija\\_in\\_merjenje/transformacije/simetricne\\_oblike/](https://vadnica.moja-matematika.si/naloge/geometrija_in_merjenje/transformacije/simetricne_oblike/)

(geslo za matematično vadnico ste dobili v mesecu marcu).